

الاسم:

ورقة عمل (السنغال)

الشعبة:

جغرافيا

الثالث الثانوي الأدبي (٢٠١٧-٢٠١٨)

السؤال الأول: اختر الإجابة الصحيحة مما يأتي:

- (١) تشغل الأراضي الزراعية : (أ) ١٢٪ من المساحة . (ب) ٢٠٪ من المساحة. (ج) ١٥٪ من المساحة.  
 (٢) يصب نهر السنغال عند : (أ) سان لويس. (ب) الرأس الأخضر. (ج) خليج سالوم.  
 (٣) تربي الأغنام والماعز في : (أ) هضبة الفيرو. (ب) سهل الكازامانس. (ج) هضبة بوندو.  
 السؤال الثاني: فسّر ما يلي :  
 (١) أهمية موقع السنغال.

(٢) العوامل المساعدة على تطور الاقتصاد.

(٣) العوامل المساعدة على السياحة.

السؤال الثالث: تكلم عم ما يلي :

(١) المنطقة البحرية.

(٢) منطقة الكازامانس.

(٣) الزراعة في السنغال.

السؤال الرابع: وازن بين :

الخدمات	الصناعة	الزراعة	الأيدي العاملة
			الناتج المحلي

السؤال الثالث: انظر إلى الخريطة المجاورة واكتب:

١ - أسماء المدن الواردة في رقم:

(١)

(٢)

ب - اسم النهر الوارد في رقم:

(٣)

(٤)

(٥)

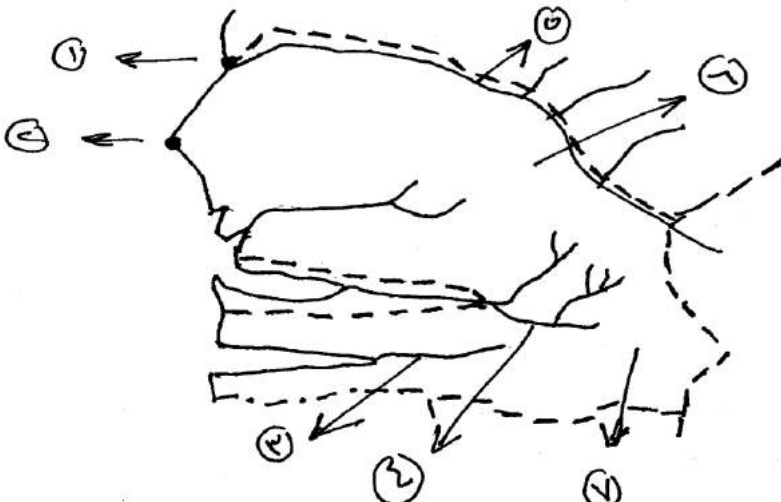
ج - اسم الهضبة الواردة في رقم:

(٦)

(٧)

د - اسم السهل الوارد في رقم:

(٨)





- السفقال
- الموقع والمحدود
  - التضاريس

الاسم:

ورقة عمل (الهند)

الشعبة:

جغرافيا

الثالث الثانوي الأدبي (٢٠١٧-٢٠١٨)



السؤال الأول: اختر الإجابة الصحيحة مما يأتي:

- ١) تحتل الهند المرتبة الأولى بزراعة : (أ) القمح. (ب) الرز. (ج) الشعير.
- ٢) تحتل الهند المرتبة الثانية بـ : (أ) السكك الحديدية. (ب) الطرق المعبدة. (ج) النقل البحري.
- ٣) ٨٥٪ من أمطار الهند تحدث بسبب الرياح: (أ) الشمالية الشرقية. (ب) الجنوبية الغربية. (ج) الشمالية.
- ٤) صنّف الزراعة والصناعة والخدمات في الهند من حيث نسب الأيدي العاملة والنتائج المحلي:

الخدمات	الصناعة	الزراعة	الأيدي العاملة
			النتائج المحلي

السؤال الثاني: أجب عن الأسئلة التالية:

- ١) السهول الشمالية (السهل السندي الغانجي).
- ٢) نهر الغانج.
- ٣) صعوبات الزراعة في الهند.
- ٤) أهمية موقع الهند.
- ٥) توزيع الكثافة في الهند.

السؤال الثالث: انظر إلى الخريطة المجاورة واكتب:

١ - أسماء المدن الواردة في رقم:

(١)

(٢)

ب - اسم النهر الوارد في رقم:

(٣)

ج - أسماء الجبال الواردة في رقم:

(٤)

(٥)

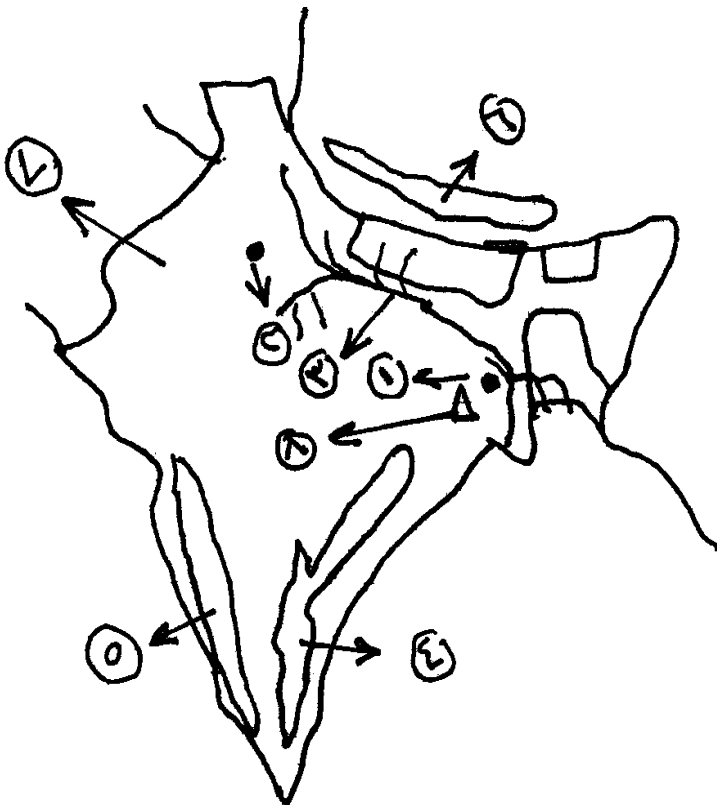
(٦)

د - اسم الصحراء الواردة في رقم:

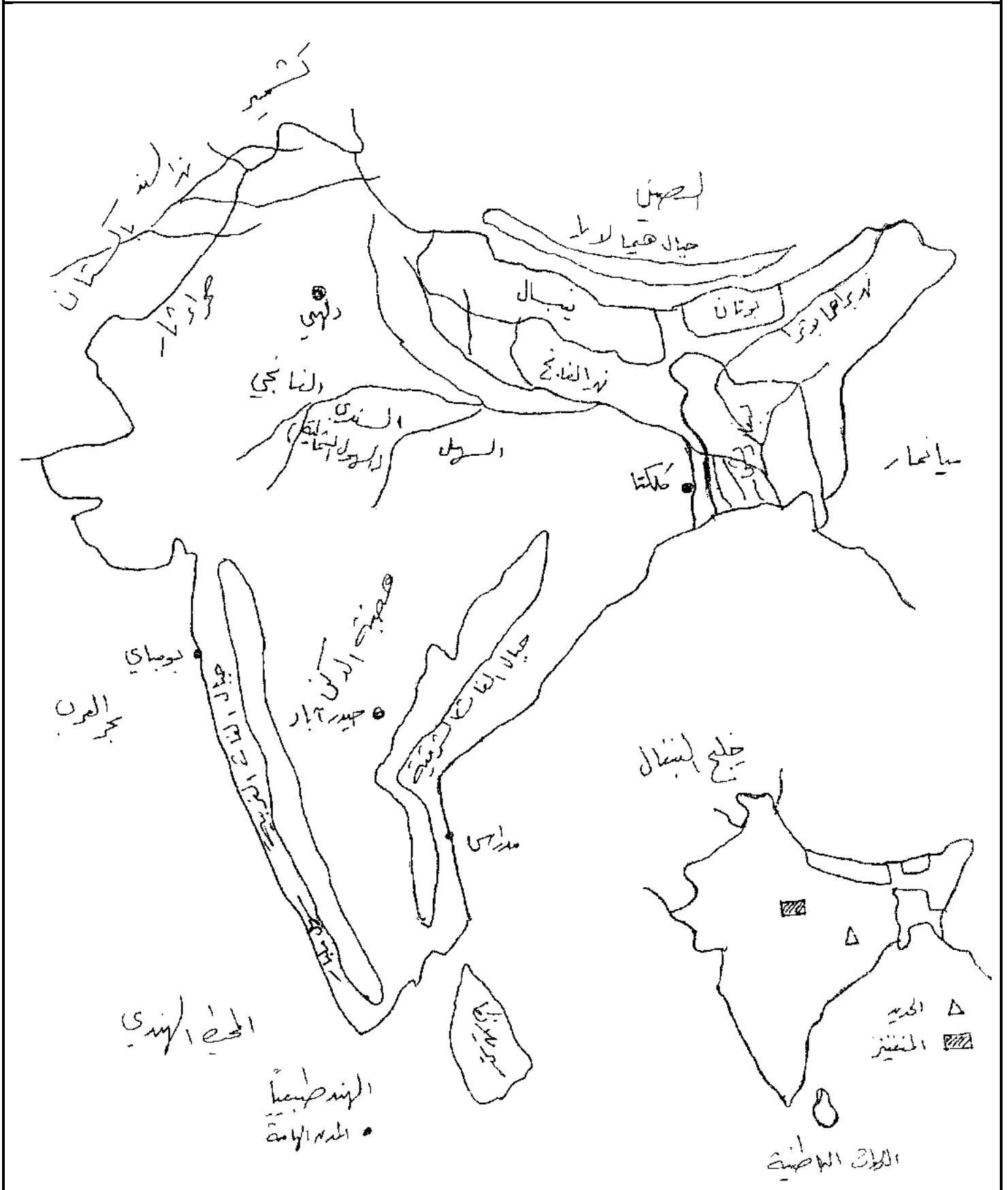
(٧)

هـ - اسم الثروة الباطنية الواردة في رقم:

(٨)



انتهت الأسئلة



**السؤال الأول: اختر الإجابة الصحيحة مما يأتي:**

- (١) تحتل اليابان المرتبة الأولى بالصناعة : (أ) البتروكيماوية. (ب) الألمنيوم. (ج) السفن.  
 (٢) أكبر الجزر اليابانية : (أ) هركايدو. (ب) هونشو. (ج) كيوشو.  
 (٣) يعمل في قطاع الصناعة: (أ) ٤,٦٪. (ب) ٦٧٪. (ج) ٢٧٪. من الأيدي العاملة  
 (٤) أجب عن السؤال التالي: رتب القطاعات التالية حسب الأولوية:  
 (أ) الصناعي. (ب) الخدمي. (ج) الزراعي. (د) الصيد البحري

**السؤال الثاني: تكلم عن:**

- (١) الصيد البحري.  
 (٢) المناخ.  
 (٣) توزيع الكثافة.  
 (٤) صفات الزراعة اليابانية.

**السؤال الثالث:**

١- اذكر أسماء الجزر الواردة في الخريطة المجاورة:

- (١)  
 (٢)  
 (٣)  
 (٤)

ب- اذكر أسماء المدن الواردة في الخريطة المجاورة:

- (٥)  
 (٦)

ج- اذكر اسم السهل الوارد في الخريطة المجاورة:

- (٧)

انتهت الأسئلة

تأسيس

